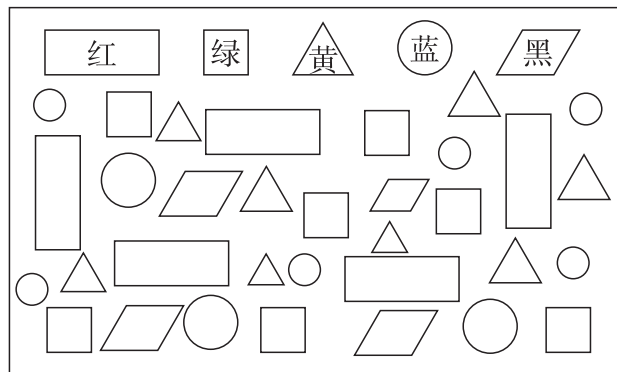





# 第1单元检测卷

(时间:45分钟 满分:100分)

## 一、认一认,涂一涂。(12分)



## 二、填一填。(每空1分,共21分)

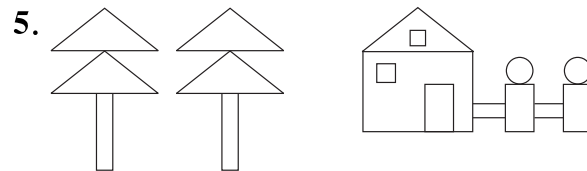


上图中,图( )是长方形,图( )是正方形,图( )是三角形,图( )是平行四边形,图( )是圆。

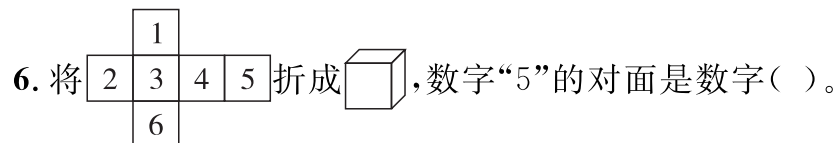
2. 是由3个( )形拼成的一个( )形。

3. 一个 可以剪成两个完全相同的( )形或( )形。

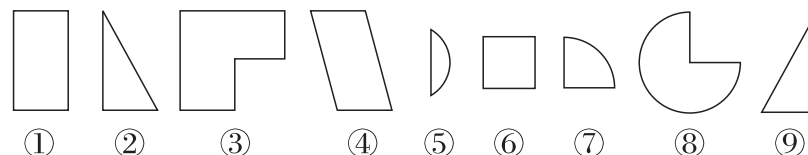
4. 用( )个 可以拼成



上图中,一共有( )个长方形,( )个正方形,( )个三角形和( )个圆。



7. 找一找,拼一拼。



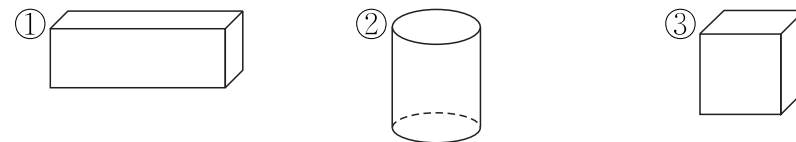
图( )和图( )能拼成一个“”。

图( )和图( )能拼成一个“”。

图( )和图( )能拼成一个“”。


## 三、选一选,填序号。(每空2分,共10分)

1. 下面物体中,图( )上下两个面是圆。



2. 用4个 不可能拼成图( )

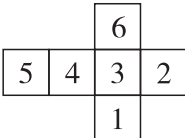



3.  有( )个三角形。

①4

②6


③8

4. 将  折成 , 数字“4”的对面是数字( )

①3


②2

③1

5.  是由 4 个( )拼成的。



四、连一连。(9 分)



下面的图形是长方体的哪个面?

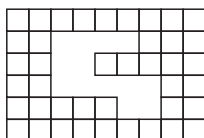


下面

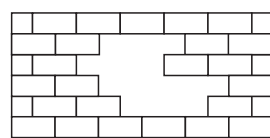
右面

后面

五、想一想,填一填。(每空 5 分,共 10 分)

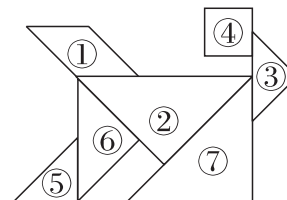


缺了( )块□



缺了( )块□

六、拼一拼,填一填。(每空 2 分,共 12 分)



1. 这个图形像一只( ),是由( )种图形拼成的。

2. ①号图形是( )形,④号图形是( )形。

3. ②号图形和( )号图形可以拼成一个正方形。


4. ( )号图形和⑤号图形完全一样。

七、按要求画一画。(共 26 分)

1. (12 分)按要求在正方形中添加一条线。

(1)两个长方形。

(2)两个三角形。



2. (14 分)按要求在长方形中添加一条线。

(1)一个正方形,一个长方形。

(2)两个长方形。

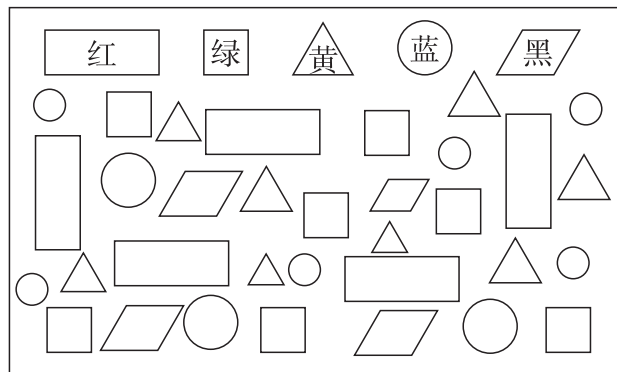




# 第1单元检测卷


(时间:45分钟 满分:100分)

## 一、认一认,涂一涂。(12分)



略

## 二、填一填。(每空1分,共21分)

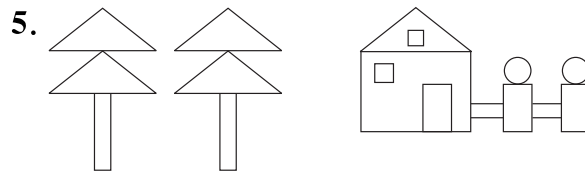


上图中,图(③⑧⑪)是长方形,图(⑤⑫)是正方形,图(①⑦)是三角形,图(②⑥⑩)是平行四边形,图(④⑨)是圆。

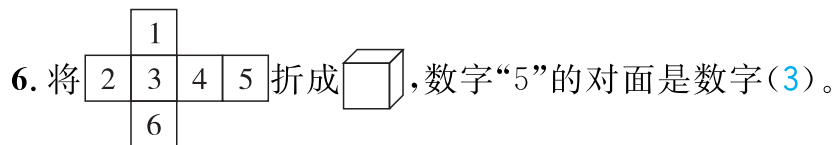
2. 是由3个(正方)形拼成的一个(长方)形。

3. 一个可以剪成两个完全相同的(三角)形或(长方)形。

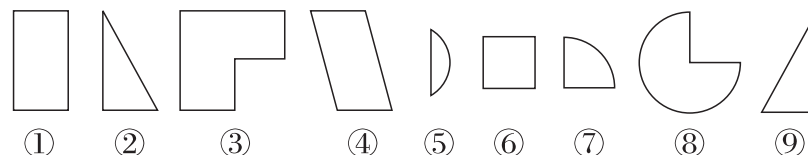
4. 用(4)个可以拼成.



上图中,一共有(8)个长方形,(2)个正方形,(5)个三角形和(2)个圆。



7. 找一找,拼一拼。



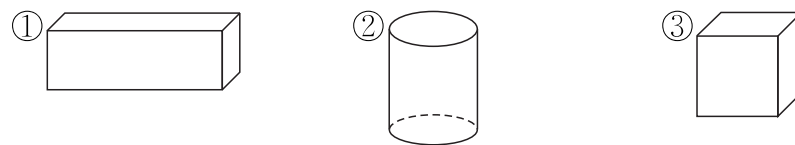
图(③)和图(⑥)能拼成一个“”。

图(②)和图(⑨)能拼成一个“”。

图(⑦)和图(⑧)能拼成一个“”。

## 三、选一选,填序号。(每空2分,共10分)

1. 下面物体中,图(②)上下两个面是圆。



2. 用4个不可能拼成图(③)

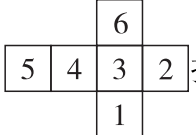



3.  有(③)个三角形。

①4

②6


③8

4. 将  折成 , 数字“4”的对面是数字(②)

①3


②2

③1

5.  是由 4 个(①)拼成的。



四、连一连。(9 分)



下面的图形是长方体的哪个面?

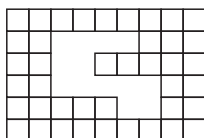


下面

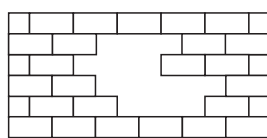
右面

后面

五、想一想,填一填。(每空 5 分,共 10 分)

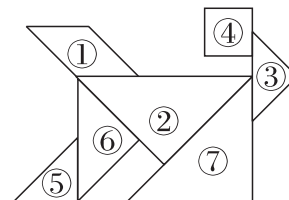


缺了(13)块□



缺了(9)块□

六、拼一拼,填一填。(每空 2 分,共 12 分)



1. 这个图形像一只(小兔),是由(3)种图形拼成的。

2. ①号图形是(平行四边)形,④号图形是(正方)形。

3. ②号图形和(⑦)号图形可以拼成一个正方形。

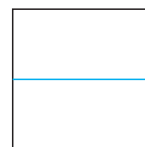
4. (③)号图形和⑤号图形完全一样。

七、按要求画一画。(共 26 分)

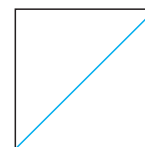
1. (12 分)按要求在正方形中添加一条线。

(1)两个长方形。

(2)两个三角形。



答案不唯一



答案不唯一

2. (14 分)按要求在长方形中添加一条线。

(1)一个正方形,一个长方形。

(2)两个长方形。



答案不唯一

